

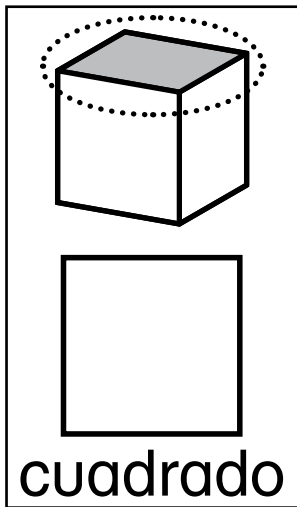
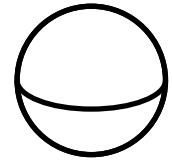
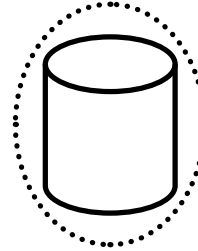
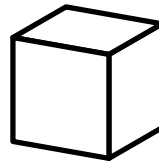
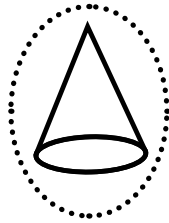




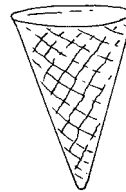
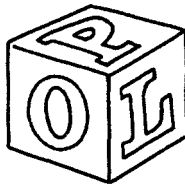

1



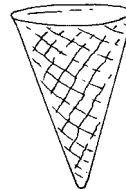

2



3



4



Instrucciones Diga: Algunas figuras sólidas tienen superficies planas. Las esferas **no** tienen superficies planas. ¿Qué figura es la superficie plana de un cubo? ¿De un cilindro? ¿De un cono? ¿Cuáles de estos 2 sólidos tienen superficies planas con la misma forma? Coloreen las 2 superficies planas que tienen la misma forma. Diga: ¿Qué figura está a la izquierda? ¿Qué sólidos tienen superficies planas con esta forma? Enciérrenlos en un círculo. Luego, pida a los estudiantes que: y miren la figura de la izquierda y luego, encierran en un círculo los objetos con una superficie plana que coincide con esa figura. ¡Al reverso! Dibujen un cuadrado o un círculo y luego, nombren 2 objetos diferentes que tengan una superficie plana que coincida con esa figura.